
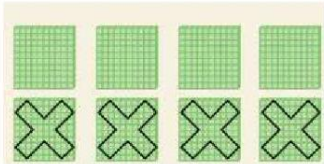


Restas con centenas

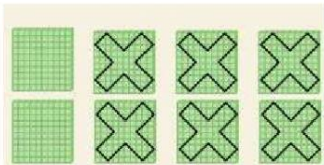
Resuelva las siguientes restas utilizando el material base 10 y escriba en la tabla



C	D	U



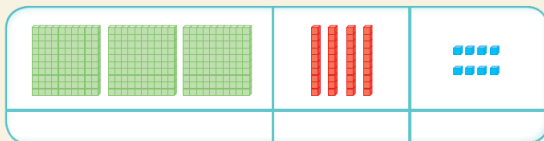
C	D	U



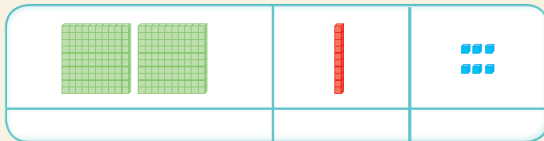
C	D	U

Resta tachando el valor que indica el sustraendo.

$$\begin{array}{r} 348 \\ - 215 \\ \hline \end{array}$$



$$\begin{array}{r} 216 \\ - 104 \\ \hline \end{array}$$



INGREDIENTES PARA VIVIR EN...
Peace and **PAZ**
Tu haces la PAZ
¿Qué ingrediente propones?

CONFIANZA	RESPECTO	PACIENCIA	AMISTAD	AMOR	LIBERTAD	SONRISA	TOLERANCIA	AMABILIDAD	ALEGRÍA



PROYECTO QUIMESTRAL 2

"Cultura de paz y ciudadanía mundial"

Área: Matemática

Estudiante: _____

Docente: Lic. Efrén Vélez Parra

Curso: Noveno "A" - Sección Vespertina

Año Lectivo: 2020-2021

Fecha de presentación: __ / __ / __



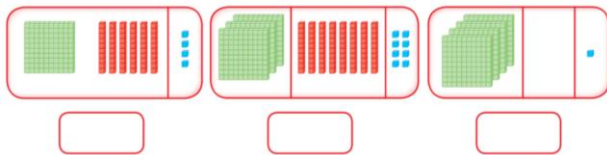
La Centena

- ✚ Escribe en palabras las cantidades con centenas.

200

500	
800	
300	
100	
400	
600	
900	
700	

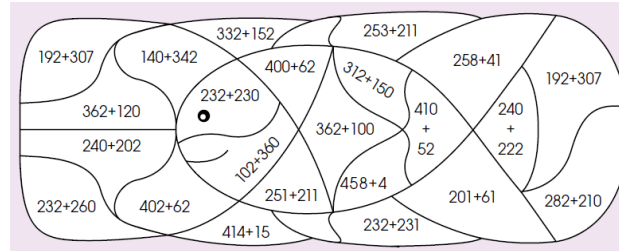
- ✚ Anote el número correspondiente en el recuadro.



- ✚ Términos de la resta.

185	→	_____
- 40	→	_____
<hr/>		
145	→	_____

Suma, luego pinte las casillas cuyo resultado se a **462** y descubran la imagen escondida.



El conejo se encuentra frente a tres caminos: si sigue el de piedras, cuyo resultado **al restar es siempre 135**, llega a las zanahorias. Pinta el camino correcto.



Relación de orden de números naturales del 0 al 499

Compara las siguientes cantidades y *escribe* el signo $>$, $<$ o $=$.

<table border="1"><tr><td>C</td><td>D</td><td>U</td></tr><tr><td>4</td><td>3</td><td>4</td></tr></table>	C	D	U	4	3	4	○	<table border="1"><tr><td>C</td><td>D</td><td>U</td></tr><tr><td>4</td><td>3</td><td>9</td></tr></table>	C	D	U	4	3	9	○	<table border="1"><tr><td>C</td><td>D</td><td>U</td></tr><tr><td>2</td><td>3</td><td>6</td></tr></table>	C	D	U	2	3	6	○	<table border="1"><tr><td>C</td><td>D</td><td>U</td></tr><tr><td>3</td><td>8</td><td>6</td></tr></table>	C	D	U	3	8	6
C	D	U																												
4	3	4																												
C	D	U																												
4	3	9																												
C	D	U																												
2	3	6																												
C	D	U																												
3	8	6																												

En la canasta los números están desordenados. **Cópialos** en orden de **menor a mayor**.



_____ < _____ < _____ < _____ < _____ < _____